

**МОСКОВСКАЯ ПРЕДПРОФЕССИОНАЛЬНАЯ ОЛИМПИАДА:
КОМПЛЕКСНАЯ БЕЗОПАСНОСТЬ (КАДЕТСКАЯ ОЛИМПИАДА)
2017–2018 г.
(7–8 классы)**

Дистанционный (отборочный) этап





Тестовые задания

Определите один правильный ответ

1.	<p>Где может передвигаться пешеход на загородной дороге, если отсутствуют тротуар и обочина:</p> <ul style="list-style-type: none">а) по разделительной полосеб) по левому краю проезжей частив) по правому краю проезжей частиг) по любому краю проезжей части
2.	<p>Какой цвет имеют знаки безопасности, используемые на путях эвакуации?</p> <ul style="list-style-type: none">а) красныйб) жёлтыйв) зелёныйг) синий
3.	<p>Водитель должен уступить дорогу пешеходам:</p> <ul style="list-style-type: none">а) при выезде на дорогу из дворовб) при выезде на дорогу с автозаправочных станцийв) при выезде на дорогу с места стоянкиг) во всех перечисленных случаях
4.	<p>Верны ли утверждения о пользовании пассажирским лифтом с автоматическим приводом дверей?</p> <p>А. Запрещается пользоваться лифтом детям дошкольного возраста без сопровождения взрослых.</p> <p>Б. Запрещается перегружать лифт.</p> <ul style="list-style-type: none">а) верно только Аб) верно только Бв) верно А и Бг) оба утверждения не верны
5.	<p>Какое смысловое значение имеет изображённый знак безопасности?</p> <ul style="list-style-type: none">а) проход запрещёнб) запрещается прикасатьсяв) не включатьг) доступ посторонним запрещён



6.	<p>Велосипедисты,двигающиеся группой по шоссе, могут ехать:</p> <p>а) только по одному, друг за другом</p> <p>б) в два ряда, если габаритная ширина велосипедов не превышает 0,75 м</p> <p>в) в три ряда, если габаритная ширина велосипедов не превышает 1,75 м</p> <p>г) в любом порядке</p>
7.	<p>Для обеззараживания одежды и предметов от бактериальных средств необходимо провести:</p> <p>а) дезинфекцию</p> <p>б) дегазацию</p> <p>в) дезактивацию</p> <p>г) дератизацию</p>
8.	<p>Как следует покинуть троллейбус в сырую погоду в случае обрыва контактного провода, упавшего на крышу троллейбуса?</p> <p>а) через окно</p> <p>б) через дверь по ступеням</p> <p>в) через дверь только прыжком</p> <p>г) покинуть любым удобным способом</p>
9.	<p>К коллективным средствам защиты относят:</p> <p>а) противогазы</p> <p>б) противорадиационные укрытия</p> <p>в) средства защиты кожи</p> <p>г) респираторы</p>
10.	<p>Какой противогаз необходим подростку, если сумма горизонтального и вертикального обхвата головы превышает 1305 мм?</p> <p>а) ГП-7</p> <p>б) ПДФ-2Ш</p> <p>в) ПФД</p> <p>г) ПДФ-2Д</p>
11.	<p>Каким цветом обозначается высокий уровень террористической опасности?</p> <p>а) жёлтым</p> <p>б) красным</p> <p>в) синим</p> <p>г) оранжевым</p>
12.	<p>Выберите утверждения, которые будут верны в ситуации если: Вы обнаружили неизвестный предмет в подъезде своего дома и его владелец не установлен, то</p> <p>А. необходимо немедленно сообщить о находке в отделение полиции</p> <p>Б. необходимо зафиксировать время обнаружения предмета</p> <p>а) верно только А</p> <p>б) верно только Б</p> <p>в) верно А и Б</p>

	г) оба утверждения не верны
13.	<p>Как обозначается воинское звание «младший сержант» в современной российской армии?</p> <p>а)  в) </p> <p>б)  г) </p>
14.	<p>Наиболее высокий уровень работоспособности организма человека наблюдается:</p> <p>а) с 8 до 12 часов б) с 12 до 15 часов в) с 16 до 20 часов г) с 20 до 24 часов</p>
15.	<p>Какая дата является Днём Героев Отечества?</p> <p>а) 9 декабря б) 12 декабря в) 3 декабря г) 1 декабря</p>
16.	<p>Что из перечисленного относится к военно-прикладным видам спорта?</p> <p>а) перетягивание каната б) акробатическая гимнастика в) гимнастика г) прыжки в воду</p>
17.	<p>Что является дистанцией в строю?</p> <p>а) расстояние по фронту между военнослужащими б) расстояние между флангами в) расстояние от первой до последней шеренги г) расстояние в глубину между военнослужащими</p>
18.	<p>Бег на длинные дистанции развивает:</p> <p>а) гибкость б) ловкость в) быстроту г) выносливость</p>
19.	<p>Верны ли утверждения, что команда, подаваемая командиром,</p> <p>А. разделяется на предварительную и исполнительную Б. может быть только исполнительной</p> <p>а) верно только А б) верно только Б в) верно А и Б г) оба утверждения не верны</p>

20.	<p>Представители какого сословия несли постоянную воинскую службу в Московском государстве в XVI в?</p> <p>а) мещане б) дворяне в) купцы г) крестьяне</p>
-----	--

Определите все правильные ответы

21.	<p>Вы находитесь в зимнем укрытии, которое обогревает и освещает спиртовая или газовая горелка. При каком цвете пламени Вам следует беспокоиться?</p> <p>а) жёлтом б) голубом в) красном г) зелёном д) белом</p>
22.	<p>Какие рекомендации следует выполнять в опасных ситуациях социального характера?</p> <p>а) не ждать, когда подскажут, действовать самостоятельно б) надеяться на других, ждать, что кто-то придёт на помощь в) уметь подчиняться, если это необходимо г) всегда решать вопросы силой д) не проявлять настойчивость в достижении цели</p>
23.	<p>Как подразделяются пожары по внешним признакам?</p> <p>а) внутренние б) явные в) открытые г) поверхностные д) заметные</p>
24.	<p>Какие из перечисленных служб можно отнести к экстренным?</p> <p>а) службу городского пассажирского транспорта б) скорую медицинскую помощь в) службу охраны окружающей среды г) пожарную охрану д) метеорологическую службу</p>
25.	<p>Какие меры воздействия имеет право применить инспектор ДПС в случае, если велосипедист нарушил Правила дорожного движения?</p> <p>а) предупредить нарушителя б) оштрафовать нарушителя в) применить любую из этих санкций г) изъять транспортное средство</p>

	д) направить сообщение о нарушении по месту учёбы (работы)
26.	<p>Какие природные чрезвычайные ситуации имеют геофизический характер?</p> <p>а) землетрясения б) извержения вулканов в) сели г) обвалы д) оползни</p>
27.	<p>Какие микроорганизмы размножаются только внутриклеточно?</p> <p>а) грибки б) бактерии в) вирусы г) риккетсии д) плесень</p>
28.	<p>В каком положении необходимо транспортировать пострадавшего в состоянии комы?</p> <p>а) на животе б) в стабильном боковом положении в) на спине г) на спине с приподнятыми ногами д) полулёжа</p>
29.	<p>Для подростков начальная и конечная температура закаливающей процедуры летом – обливание водой – должна составлять:</p> <p>а) начальная температура 24°C б) конечная температура 15 – 20°C в) начальная температура 30°C г) конечная температура 16 – 15°C д) конечная температура 10°C</p>
30.	<p>По каким командам принимается строевая стойка?</p> <p>а) «вольно!» б) «смирно!» в) «заправиться!» г) «становись!» д) «равняйся!»</p>
31.	<p>Какие физические упражнения наиболее эффективны для развития быстроты?</p> <p>а) кувырок вперёд б) специальные беговые упражнения в) сгибание, разгибание рук в упоре лёжа г) бег с сопротивлением д) поднимание прямых ног в висе</p>

32.	К группе боевых отравляющих веществ нервно-паралитического действия относят: а) фосген б) иприт в) зарин г) зоман д) люизит
33.	Кровоостанавливающий жгут накладывают в случае: а) травматической ампутации пальцев кисти б) наличия лужи крови диаметром более 1 м вокруг конечности пострадавшего в) истечения алой крови из раны струёй под давлением г) большой площади повреждения поверхностного слоя кожи д) травматической ампутации пальцев стопы
34.	Какие дисциплины входят в военизированный кросс? а) плавание б) метание гранаты на дальность в) преодоление полосы препятствий г) стрельба д) лыжная гонка
35.	Назовите расположение противогазной сумки в «походном» положении при полевом снаряжении. а) на левом боку б) на правом боку в) клапаном к себе г) как наиболее удобно д) клапаном от себя

**Методика оценивания выполнения тестовых заданий
теоретического (отборочного) этапа**

№ тестового задания	Максимальный балл	Порядок оценивания тестовых заданий
1–20	2	За правильный ответ начисляется 2 балла. 0 баллов выставляется за неправильный ответ, а также если участником отмечены несколько ответов (в том числе правильный).
21–35	4	За каждый правильный ответ начисляется 2 балла. 0 баллов выставляется за неправильный ответ, а также если участником отмечены более двух ответов (в том числе правильные).
ИТОГО	100	Общий итоговый балл определяется суммой баллов, полученных за каждое тестовое задание.

Матрица ответов на тестовые задания теоретического отборочного этапа

Номер тестового задания	Верный ответ	Номер тестового задания	Верный ответ
1.	б	21.	а, в
2.	в	22.	а, в
3.	г	23.	а, в
4.	в	24.	б, г
5.	г	25.	а, б
6.	б	26.	а, б
7.	а	27.	в, г
8.	в	28.	а, б
9.	б	29.	а, г
10.	а	30.	б, г
11.	а	31.	б, г
12.	в	32.	в, г
13.	в	33.	б, в
14.	а	34.	б, г
15.	а	35.	а, д
16.	а		
17.	г		
18.	г		
19.	в		
20.	б		